



Jeu de piste pour toute la famille

Savignac-les-Églises

FACILE



3,8 KM

1 H 45

SAVIGNAC-LES-ÉGLISES

Le Causse de Savignac, c'est 410 hectares de nature préservée, dont plusieurs zones classées Natura 2000. Des espèces rares habitent ici, comme le lézard ocellé, mesurant jusqu'à 90 cm de long ! Des cabanes de pierre sèche aussi anciennes que pittoresques témoignent de l'activité agricole de jadis, mais désormais, ce sont les activités de pleine nature qui prennent le relais. Parcours balisés de marche nordique, fitness de plein air, parcours VTT, parcours de santé, 4 aires de pique-nique, tout est là pour vous faire passer une journée nature en famille !



Débuter la balade du parking. Se diriger vers les plans au début du sentier ①.

Emprunter le chemin et aller au niveau de la pelouse sèche pour découvrir l'œuvre de land'Art de M. Franken ②.

Continuer sur le chemin et passer devant les agrès du parcours de santé intitulé "slalom" et "barres d'équilibre". Au grand croisement bien examiner les panneaux ③.

Poursuivre tout droit. À l'intersection suivante tourner à gauche et s'arrêter à la cabane en pierres sèches juste avant l'aire de pique-nique ④.

continuer sur le même chemin jusqu'à la route. Aller à gauche et prendre le troisième chemin à droite (parcours bleu marche nordique) pour traverser un champ et revenir à la route.

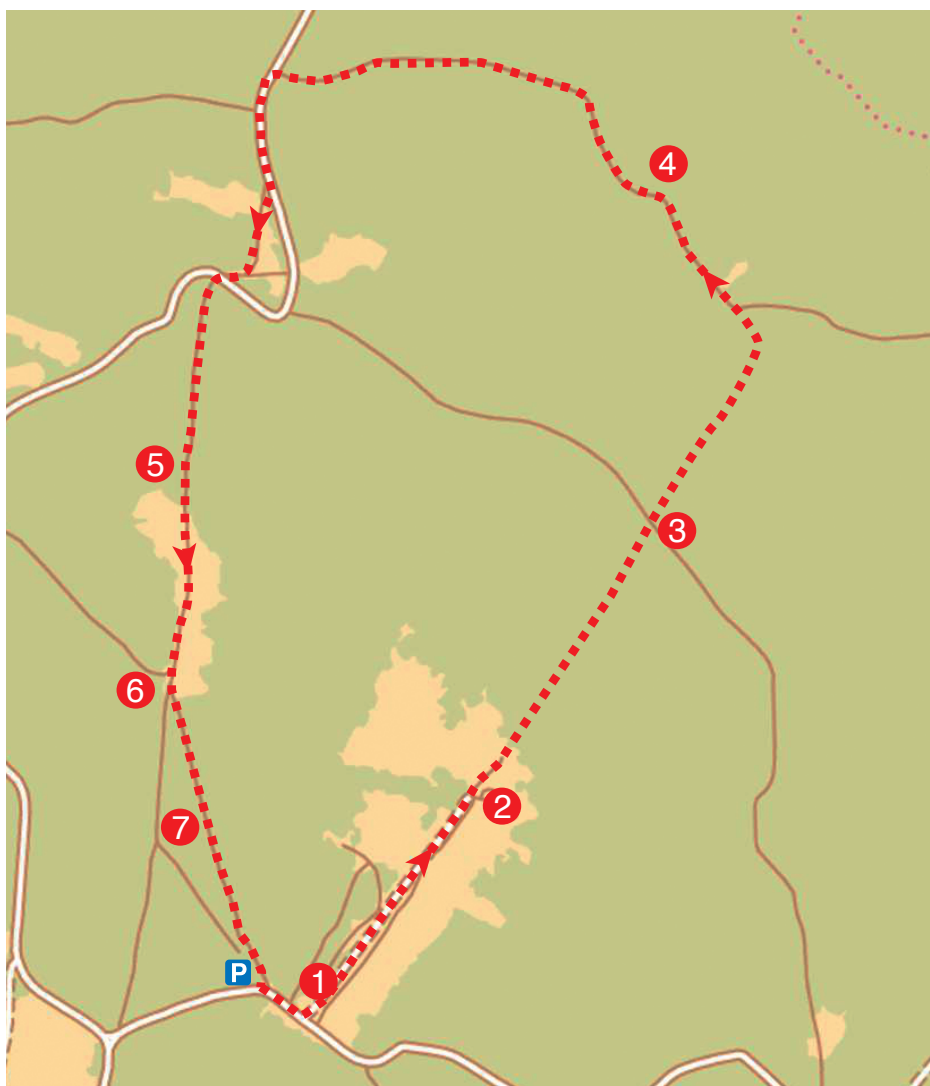
Attention à la circulation !

Traverser pour continuer en face et suivre le parcours de santé. S'asseoir sur le banc juste après l'agrès intitulé "planche abdominale" pour observer le paysage ⑤.

Continuer jusqu'à la fosse de tir à la grenade ⑥ au grand croisement.

Descendre à gauche et s'arrêter à l'ensemble d'agrès ⑦.

Puis, revenir au parking pour terminer la balade.





Les cabanes de pierres sèches

Au même titre que les nombreux murets que l'on retrouve sur le territoire, les cabanes de pierres sèches sont de remarquables éléments patrimoniaux ayant fortement contribué à forger l'identité des causses calcaires. Ces réalisations architecturales sont le fruit d'un savoir-faire ancestral et d'un sol ingrat où chaque mise en culture nécessite l'élimination des très nombreuses pierres qui affleurent de la mince couche de terre arable.

Ces pierres ont parfois été réunies en tas (les cayroux ou cheyroux) ou utilisées pour délimiter les propriétés (les murets de pierres sèches). D'autre fois, elles ont été utilisées pour construire ces cabanes qui permettaient de stocker des outils ou du matériel, de fermer des bêtes et de se mettre à l'abri des intempéries.

De la même manière que pour les murets, les pierres sèches sont assemblées sans ciment. Le plus souvent, le mur des cabanes est circulaire et présente une ouverture surmontée d'une énorme lauze faisant office de linteau. Des niches, des fenêtres et des bancs sont généralement aménagés. La couverture est constituée d'une voûte en encorbellement quelques fois couronnée d'une grosse pierre posée au sommet en guise d'épis de façage.

On trouve des cabanes de toute taille en fonction de l'usage pour lequel elles étaient construites dont certaines sont mêmes incluses dans les murets ou dans les cayroux.



Texte : Alain CALANDREAU « Les cabanes de Saint-Martial-d'Albarède ».

Pour en savoir plus

Office de Tourisme
Causses et Rivières en Périgord

Place du Château
24160 Excideuil
Tél. : 05 53 52 29 79
tourisme@naturellementperigord.fr
www.naturellementperigord.fr



HORAIRES D'OUVERTURE OFFICE DE TOURISME

Octobre à Mai

Jeudi et vendredi : 9h00 – 13h00 / 14h00 – 18h00

Samedi : 10h00 – 13h00 / 14h00 – 18h00

Juin et septembre

Du lundi au samedi : 10h00 – 13h00 / 14h00 – 18h00

Juillet et août

Du lundi au samedi : 10h00 – 13h00 / 14h00 – 18h00

Dimanche : 9h30 – 13h00

Ce circuit a été mis en place dans le cadre d'un partenariat entre l'Office de Tourisme du Pays d'Excideuil et la société Randoland, spécialisée dans les circuits familles.



Avant de partir

Dansons la capucine,
Y'a plus de pain chez nous!
Y'en a chez la voisine,
Mais ce n'est pas pour nous,
Youh!

À l'aide de ta *check-list*, vérifie qu'il ne te manque rien. Coche les objets que tu emmènes pour la balade.

Check-list

- tes fiches randoland;
- un crayon;
- de bonnes chaussures;
- un chapeau;
- un vêtement de pluie (selon la météo);
- un petit sac à dos;
- une gourde avec de l'eau;
- un appareil photo (pour garder des souvenirs!).

Les enfants se demandent quelle fleur ils aimeraient bien avoir dans leur jardin. Utilise les informations fournies sur la page suivante pour retrouver la fleur choisie par nos deux amis. En fin de parcours, note sa lettre dans la case prévue pour la réponse.

À l'Office de Tourisme ou sur le site randoland.fr, tu pourras vérifier si tu as trouvé la bonne réponse.



Énigme : 2452701P

TA RÉPONSE

CETTE PAGE EST PROTÉGÉE. CETTE PAGE EST PROTÉGÉE.

SAVIGNAC-LES-ÉGLISES

POUR ACHETER LE FICHIER NON PROTÉGÉ, RENDEZ-VOUS SUR WWW.RANDOLAND.FR

CETTE PAGE EST PROTÉGÉE. CETTE PAGE EST PROTÉGÉE.

1. Les peintures à l'acrylique
Demande à l'adulte qui t'accompagne de te montrer comment on utilise des peintures à l'acrylique pour la randonnée. Regarde le panneau du milieu. Parmi ces crayons, un seul ne t'indique pas une couleur de fleches juste en dessous. Lequel?

2. Le pain au levain
À l'aide de quel matériau, ce pain a-t-il été fait?

acier bois pierre

CETTE PAGE EST PROTÉGÉE. CETTE PAGE EST PROTÉGÉE.

POUR ACHETER LE FICHIER NON PROTÉGÉ, RENDEZ-VOUS SUR WWW.RANDOLAND.FR

forme des pétales

CETTE PAGE EST PROTÉGÉE. CETTE PAGE EST PROTÉGÉE.

LE FICHIER NON PROTÉGÉ, RENDEZ-VOUS SUR WWW.RANDOLAND.FR

3. Les fleurs de la corolle
Tu vas découvrir la couleur de la corolle.

CETTE PAGE EST PROTÉGÉE. CETTE PAGE EST PROTÉGÉE.

4. Le jeu d'Art
Quel dé t'indique le nombre de pierres qui composent ce Jeu d'Art?

5. La sabane en pierres sèches
Quelle ombre chinoise correspond à celle de la courbe de la sabane en pierres sèches?

CETTE PAGE EST PROTÉGÉE. CETTE PAGE EST PROTÉGÉE.

POUR ACHETER LE FICHIER NON PROTÉGÉ, RENDEZ-VOUS SUR WWW.RANDOLAND.FR

couleur des pétales

nombre de feuilles vertes

CETTE PAGE EST PROTÉGÉE. CETTE PAGE EST PROTÉGÉE.

POUR ACHETER LE FICHIER NON PROTÉGÉ, RENDEZ-VOUS SUR WWW.RANDOLAND.FR

6. Le paysage, vu du banc
Une seule photo a été prise d'ici. Laquelle?

7. La fosse de tir
A quel objet pourrait-on associer la forme de cette fosse de tir?

CETTE PAGE EST PROTÉGÉE. CETTE PAGE EST PROTÉGÉE.



CETTE PAGE EST PROTÉGÉE. CETTE PAGE EST PROTÉGÉE.

POUR ACHETER LE FICHIER NON PROTÉGÉ, RENDEZ-VOUS SUR WWW.RANDOLAND.FR

couleur du pistil

CETTE PAGE EST PROTÉGÉE. CETTE PAGE EST PROTÉGÉE.

RENDEZ-VOUS SUR WWW.RANDOLAND.FR



8. Le parcours de santé
Combien de bornes à exposer se trouvent dans cet ensemble d'agès?

CETTE PAGE EST PROTÉGÉE. CETTE PAGE EST PROTÉGÉE.

POUR ACHETER LE FICHIER NON PROTÉGÉ, RENDEZ-VOUS SUR WWW.RANDOLAND.FR



4 6 5

CETTE PAGE EST PROTÉGÉE. CETTE PAGE EST PROTÉGÉE.

POUR ACHETER LE FICHIER NON PROTÉGÉ, RENDEZ-VOUS SUR WWW.RANDOLAND.FR

air de fil à la

nombre de pétales

CETTE PAGE EST PROTÉGÉE. CETTE PAGE EST PROTÉGÉE.

Aujourd'hui les enfants du centre de vacances partent à la découverte du Causse de Savignac. Au programme, parcours de santé avec un atelier sur la faune et la flore, pique-nique puis balade en VTT!

La matinée passée, les enfants se réunissent tous autour de Bruno, l'encadrant VTT qui leur distribue le matériel de protection. Puis, ils se dirigent ensemble vers le camion qui a transporté tous les vélos. Pour les soutenir pendant le trajet, ils ont tous été attachés par une grande chaîne et un cadenas.

Mais, au moment d'ouvrir le cadenas, Bruno a complètement oublié son code!

Pour le retrouver, il décide de faire appel à l'inspecteur Rando qui, après avoir mené son enquête, a sa petite idée sur le code à utiliser.

Et toi, sauras-tu le démasquer dans la liste ci-dessous?



Liste des codes

2BEX88M

8X8L2SB

8EET68U

8X9MEB2

8R28PBO

8XE51BL

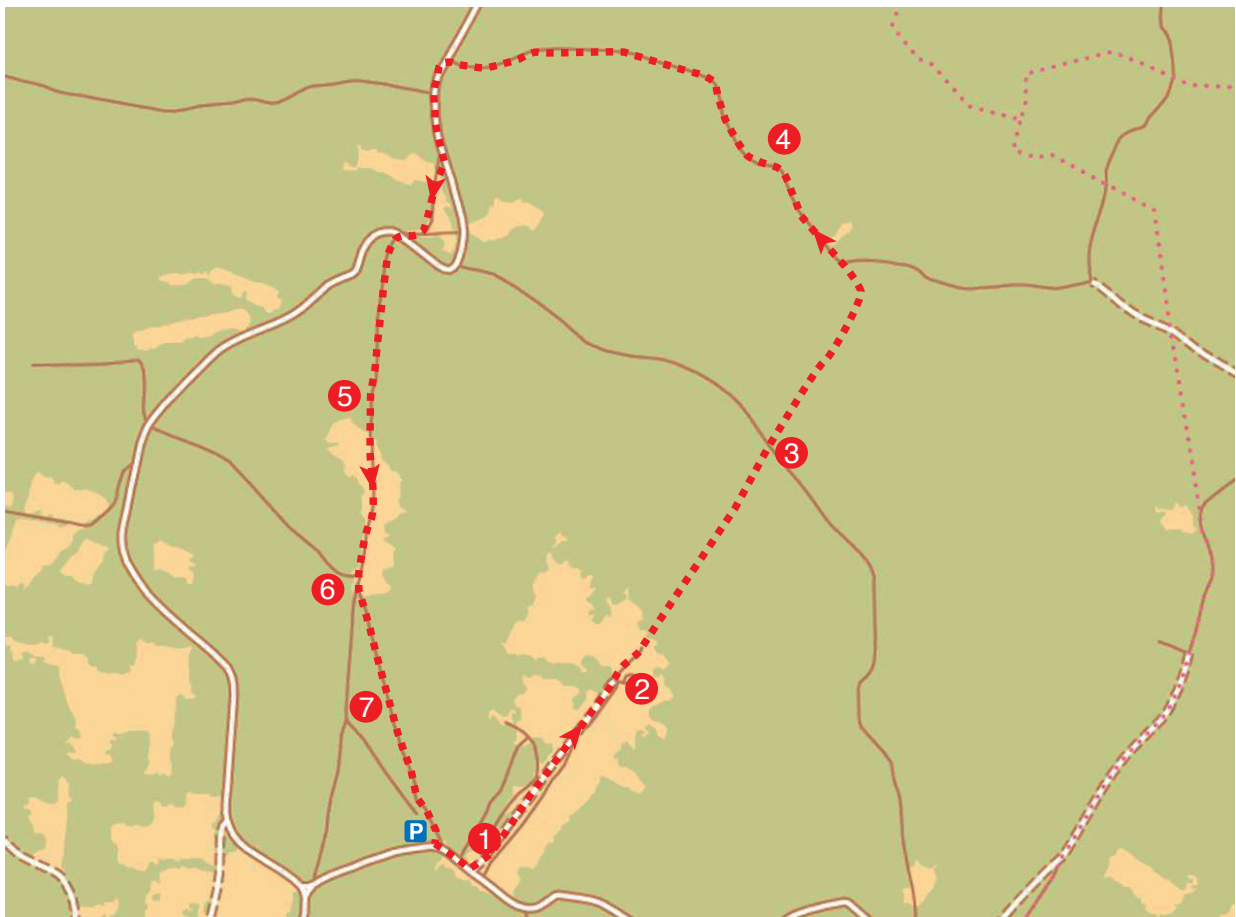
8X3M9RH

XM9B88E

Tu disposes du plan ci-dessous. À chaque point indice, lis bien les indications de la page suivante et reporte tes réponses sur la grille de bas de page.

Remets en ordre les caractères des cases colorées pour retrouver le bon code.

À l'Office de Tourisme ou sur le site randoland.fr, tu pourras vérifier si tu as trouvé la bonne réponse.



CETTE PAGE EST PROTÉGÉE. CETTE PAGE EST PROTÉGÉE.

POUR ACHETER LE FICHER NON PROTÉGÉ.

CETTE PAGE EST PROTÉGÉE. CETTE PAGE EST PROTÉGÉE.

Pour toutes les activités de cette fiche, inscris dans la grille de bas de page les réponses trouvées en face des chiffres correspondants.

1 Les panneaux au départ

Je n'aime pas le vélo. En fait, j'aime le vélo. Mais cela, il souhaite suivre le parcours des débutants.

Reporte ta réponse, dans la grille, mais sans la virgule.

2 Le Land'Art

Combien de plantes possède cette œuvre de Wieger ?
Inscris le nom anglais de ta réponse dans la grille.

Aide
Les chiffres:
Un = One;
Deux = Two;
Trois = Three;
...

3 Les panneaux de randonnée

La boucle qui indique 7 km sur ce panneau pourrait être associée au métier de :

- a) boulanger.
- b) bûcheron.
- c) bûcher.

Note dans la grille la lettre correspondant à ta réponse.

4 La cabane en pierres sèches

Tu es devant plusieurs autres à l'intérieur d'une cabane. Dans le nuage, supprime les lettres du nom du matériau de ces poutres.

Le chiffre figurant ton nuage correspond au nombre de fois où on voit une lettre dans le nuage.

Par exemple, dans le nuage, on retrouve 6 fois la lettre «V». On la reporte donc dans la case verte comportant le chiffre «6». Continue à rayer les lettres et recompose le nom d'un mode de locomotion. Note-le ensuite dans la grille.



6 9 5 1

5 Le paysage vu du banc

Simon et Lilia ont effectué cette balade. À leur retour, ils ont rempli les cases vides du tableau ci-dessous. Quelle a été prise de ce banc. Laquelle?

Les cases de la grille correspondent à ton answer.



6 La fosse de tir

Descends dans l'ancienne fosse de tir où se cachait les soldats. Si des ennemis arrivent par le chemin de terre qui vient d'au-dessus, comment tu pour les atteindre ?

- 1 - À gauche
- 2 - À droite
- 3 - A droite
- 4 - Derrière toi

Inscris dans la grille le chiffre correspondant à ta réponse.

7 Le parcours de santé

Pour cette énigme, les consonnes valent + 3 et les voyelles + 1.

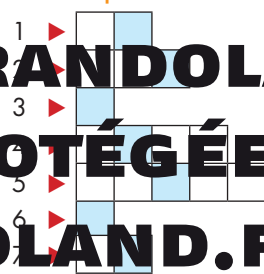
Ex: VÉLO = 3 + 1 + 3 + 1 = 8

Retrouve l'adresse de bois où se trouve le n°10, où tu peux lire le nom de l'agrès qui se trouve devant toi.

Calcule la valeur de l'inscription en lettres capitales puis reporte ton résultat dans la grille.

Le code de la grille de code de recherche pour retrouver le code recherché.

Grille réponse



Enigme 245276 TM

TA RÉPONSE



CETTE PAGE EST PROTÉGÉE. CETTE PAGE EST PROTÉGÉE.

L'office de tourisme d'Excideuil a fait appel à un prestataire extérieur pour l'accompagnement d'un groupe en VTT sur le site du Causse de Savignac.

Tout le matériel est en place, il ne manque plus que les participants qui arriveront en début d'après-midi.

Mais malheur! En revenant de son repas, l'encadrant s'aperçoit que plusieurs vélos ont disparu!

Il décide alors de faire appel à l'inspecteur Rando pour mener l'enquête. Il a réussi à établir une liste de suspects mais il a besoin de ton aide pour démasquer le vrai coupable de ce vol. Sauras-tu l'aider à le retrouver?



Liste des Suspects*

GRAUVITE Pauline née le 12 juillet 1984 à Cherveix

MILORDE Quentin né le 17 septembre 1999 à Cubjac

MOMEONI Manon née le 4 juillet 1988 à Coulaures

RONTONTON Lucas né le 14 décembre 2000 à Mayac

ROUDONRET Noémie née le 29 octobre 1993 à Brouchaud

TRENE Lauryne née le 30 novembre 1994 à Savignac

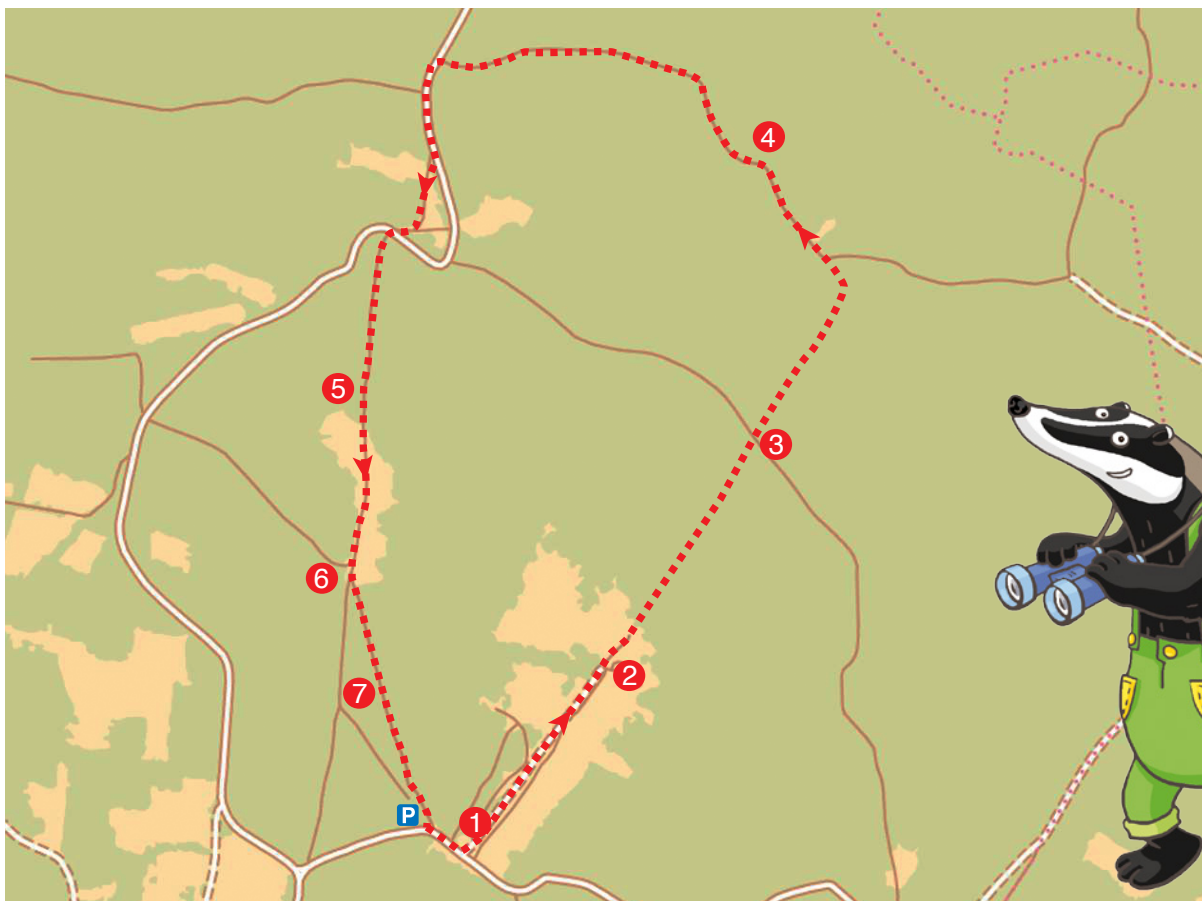
VALLIRD Jules né le 25 août 1990 à Excideuil

WALLISS Enzo né le 22 mars 1992 à Génis

* Personnages imaginaires.

Tu disposes du plan ci-dessous. À l'emplacement des points rouges, lis les indications qui te permettront de résoudre l'énigme principale.

À l'Office de Tourisme ou sur le site randoland.fr, tu pourras vérifier si tu as trouvé la bonne réponse.



CETTE PAGE EST PROTÉGÉE. CETTE PAGE EST PROTÉGÉE.

Savignac-les-Églises

POUR ACHETER LE FICHIER NON PROTÉGÉ, RENDEZ-VOUS SUR WWW.RANDOLAND.FR

CETTE PAGE EST PROTÉGÉE. CETTE PAGE EST PROTÉGÉE.

Sur la carte, quel élément du paysage, figuré en vert foncé, est le plus présent sur le site ?

Le chiffre de la bonne photo n'est pas le chiffre des unités de son numéro. Les autres de la carte sont recherchés.

1 Les panneaux au départ

Le chiffre de la bonne photo n'est pas le chiffre des unités de son numéro. Les autres de la carte sont recherchés.

Le chiffre de la bonne photo n'est pas le chiffre des unités de son numéro. Les autres de la carte sont recherchés.

Le chiffre de la bonne photo n'est pas le chiffre des unités de son numéro. Les autres de la carte sont recherchés.

5 Le paysage, vu du banc

Le chiffre de la bonne photo n'est pas le chiffre des unités de son numéro. Les autres de la carte sont recherchés.

Le chiffre de la bonne photo n'est pas le chiffre des unités de son numéro. Les autres de la carte sont recherchés.



CETTE PAGE EST PROTÉGÉE. CETTE PAGE EST PROTÉGÉE.

LE FICHIER NON PROTEGE, RENDEZ-VOUS SUR WWW.RANDOLAND.FR

CETTE PAGE EST PROTÉGÉE. CETTE PAGE EST PROTÉGÉE.

CHIER NON PROTÉGÉ, RENDEZ-VOUS SUR WWW.RANDOLAND.FR

CETTE PAGE EST PROTÉGÉE. CETTE PAGE EST PROTÉGÉE.

NON PROTÉGÉ, RENDEZ-VOUS SUR WWW.RANDOLAND.FR

CETTE PAGE EST PROTÉGÉE. CETTE PAGE EST PROTÉGÉE.

PROTÉGÉ, RENDEZ-VOUS SUR WWW.RANDOLAND.FR

CETTE PAGE EST PROTÉGÉE. CETTE PAGE EST PROTÉGÉE.

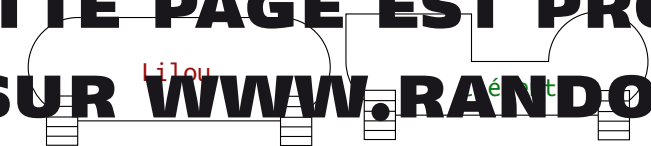
2 Le Land Art

Le numéro d'ordre de la pierre de voleur est supérieur au nombre de pierres de ce Land Art.

La fosse de t...

Quatre enfants ont schématisé cette ancienne fosse de voleur. Le nom du voleur recherché possède plus de lettres que cet enfant.

Le nom du voleur recherché possède plus de lettres que cet enfant.



ÉGÉ, RENDEZ-VOUS SUR WWW.RANDOLAND.FR

T PROTÉGÉE. CETTE PAGE EST PROTÉGÉE.

3 Les panneaux de randonnée

Réponds à l'étape 1. Quelle distance reste-t-il à parcourir pour atteindre Sorès ?

Le chiffre de ta réponse est plus petit que le chiffre de l'année de naissance du voleur recherché.



TÉGÉE. CETTE PAGE EST PROTÉGÉE. CETTE PAGE EST PROTÉGÉE.

EZ-VOUS SUR WWW.RANDOLAND.FR POUR ACHETER LE FICHIER NON PROTÉGÉ.

4 La cabane en pierres sèches

Le nombre de poutres de la cabane est un multiple du nombre de poutres visibles à l'intérieur de la cabane.

Le nombre de poutres de la cabane est un multiple du nombre de poutres visibles à l'intérieur de la cabane.

Parmi les chiffres restants, lequel apparaît le plus souvent ?

Tu viens de trouver le rang dans l'alphabet d'une lettre absente du mot voleur.

7 Le parcours de santé

Combien de nœuds comptes-tu sur la corde bleue ?

Le jour de naissance du voleur recherché est supérieur à la réponse.

3	20	13	15	27
9	16	5	17	11
14	17	9	12	21
10	18	17	13	19

Tu devrais maintenant connaître l'identité du voleur. Son prénom commence par une lettre absente du mot voleur.

Énigme 2452701G

UR WWW.RANDOLAND.FR POUR ACHETER LE FICHIER NON PROTÉGÉ.

GE EST PROTÉGÉE. CETTE PAGE EST PROTÉGÉE.